

by 冰姐讲数 MathTalk, Afterclass

KSSR Semakan

小学三年级数学

免费体验版

小小数学家



My Best study companion

概念技巧 . 题型分析 . KBAT . 学校课本练习



您接下来所看见的所有内容都附带讲解视频，学生完完全全可以依据自己的进度学习。这不是活动本也不是作业而已。是数学完整课程，等于一本有电影的课本。每个单元概念的讲解，以图像讲解，注重思维提升，陪读家长须注意的事项。



MathTalk 课程特点

❗ 课程内容依据KSSR Semakan 最新内容课本编写。

小学 KSSR Semakan 三年级数学全年课程视频书

by 冰姐讲数 MathTalk

Tel : 016 - 538 4655

Website : afterclass.my / Facebook Page : 冰姐讲数 MathTalk

前言：

年龄介于小学阶段的孩子对新事物都是充满好奇心，这个时候也是最好给孩子打下巩固根基的时候。

冰姐讲数 MathTalk 将以图解的方式讲解每个数学改天，从而让孩子更有兴趣学习。同时，我们也加入与家长的留言，陪读家长可以依据每个单元的指示引导孩子学习。

如果孩子觉得题目太多感到压力而不想学习，我们建议可以先让孩子从做练习开始。遇到不明白的题目，再参考视频的讲解。从而慢慢完成整个课程。同时，我们也加入学校课本练习，一些题目我们已经加以修改，主要目的是要帮助学生更容易明白、随时可以学习的便利以及减轻家长的负担。请家长加以留意，学生观看视频后，必须自己尝试完成作业再交给老师批改。而不是提供给孩子以为可以抄袭的错误观念。让孩子一起探索数学的乐趣吧！

p/s: 由于不同的学校老师要求的回答格式有所不同，MathTalk 讲解只提供讲解，学生需根据各自学校老师要求的格式为作答标准。

目录：

1st Edition – July 2021

2nd Edition - June 2023

单元 1 10000 以内的整数 (pg1)

单元 2 基本运算 (pg19)

单元 3 分数、小数与百分比 (pg57)

单元 4 钱币 (pg86)

单元 5 时间与时刻 (pg107)

单元 6 度量衡 (pg133)

单元 7 空间 (pg158)

单元 8 坐标 (pg176)

单元 9 数据处理 (pg185)

MathTalk




**如要简单答案(pdf file) 以及讲解视频，请登入到 afterclass.my 网站下载。




书本所有题目附带 MathTalk 讲解视频，任何无附带视频，或其他老师复印充当教材非正版。 0

单元 1 10 000 以内的整数



思维引导 1 单元概念 [请观看视频  并把重点记录下来]



! 每进入一个新的单元，都会先让学生明白概念。而不是直接算那种。





笔记 1 [请观看视频  并把重点记录下来]

请念出以下数字。

1. 2003
2. 2030
3. 2031
4. 2300
5. 2301
6. 2311


MathTalk

 给家长的话：即使有 2 个 0，只念一次。如果 0 位于数字之间，就必须念。如果 0 之后再没有其他非 0 的数字，此 0 就不需要再念。

 练习 1 完成下图

	数字	文字
1	8001	
2	4020	
3	6900	
4	3505	
5		九千八百零三
6		一千九百九十九
7		七千一百七十七





! 用图画讲解让孩子有更清晰的概念。



练习 5 看图以数字写出数目。

①	②
③	④



概念技巧 2 数目线 [请观看视频 并把重点记录下来] [此部分比较难，建议家长陪同学习]


MathTalk



练习 6 看图以数字写出数目

①	②
③	④





! 由浅到深一题一题讲解。



总复习 1

1. 把 4650 写成文字。

- A 四百六十五
- C 四千六百五零

- B 四千六百零五
- D 四千六百五十

2. 下列哪个数目中，4 的数位是百位？

A 2 648

B 3 471

C 4 583

D 3 374

3. 8 133 中，8 的数值是什么？

A 8

B 80

C 800

D 8000

4. 以下哪项是 4294 之前的数目？

A 4492

B 4924

C 4942

D 4249

5. 下图显示四张数目卡。

MathTalk



顺序排列以上的数目。

- A 2359、2210、2259、2158
- C 2210、2259、2359、2158

- B 2359、2259、2210、2158
- D 2158、2210、2259、2359



总复习 2

1. a. 将以下的数目与正确的读法连起来。九百零七

907

九百七十


九百七

九百零七


b. 把九百七十八写成数字。_____






概念技巧 5 百位近似值 [请观看视频  并把重点记录下来]

1. 哪些数目的百位近似值是 200。
2. 哪些数目的百位近似值是 500。
3. 哪些数目的百位近似值是 800。



**! 注重分析概念
帮助孩子更清
晰地理解。**



概念技巧 6 千位近似值 [请观看视频  并把重点记录下来]

1. 哪些数目的千位近似值是 1000。
2. 哪些数目的千位近似值是 4000。
3. 哪些数目的千位近似值是 9000。



练习 14 根据指示写一写。



①
十位近似值是 7 550 的数目

②
百位近似值是 2 600 的数目



练习 15 画线配一配数列与模式。

①	5 700 , 5 600 , 5 500 , 5 400 , 5 300
②	2 020 , 3 030 , 2 020 , 3 030 , 2 020
③	6 525 , 6 550 , 6 575 , 6 600 , 6 625
④	8 , 16 , 32 , 64 , 128 , 256 , 512
⑤	9 800 , 9 750 , 9 700 , 9 650 , 9 600

重复地加 25
交替使用数目
重复地减 100
重复地减 50
重复地乘 2



4. 哪个数目比较大?



5. 哪个数目比较大?




6. 哪个数目比较小?



! 讲解课本的练习，不需再因为不会做作业也培养拖延症。

MathTalk



学校课本练习 3

1. 从小到大排列以下数目。

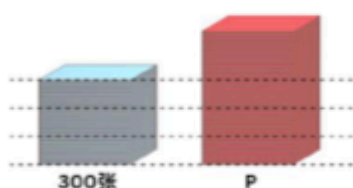


2. 从大到小排列以下数目。



学校课本练习 4 估算

1.



如何有效使用MathTalk 课程学习

步骤 1

每当开始学习新的单元，学生首选必须通过Concept 和 Note 对即将学习的概念有初步的了解。

步骤 2

通过观看视频先从 Example 开始学习基本的题目和作答方法。

步骤 3

明白基本概念后，在先不看视频的情况下自己尝试Exercise题目，此类题目是针对Example所教的方法进行训练。完成后，并下载 PDF 检查答案，答案错的话再观察视频讲解。

步骤 4

重复步骤3并完成每个 Exercise, Skill 和 Bonus 的讲解绝对不可以错过，因为这些都是非常有用的技巧。

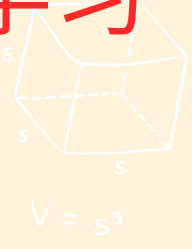
步骤 6

最后步骤，也是最重要的，就是 Tutorial 题目，Tutorial 多数为历届考题，考试的题型。先自行尝试，如果答案再观看视频。所有Tutorial 必须完成。

步骤 5

当你完成所有的 Exercise，基本上就已经是把整个单元学完了。

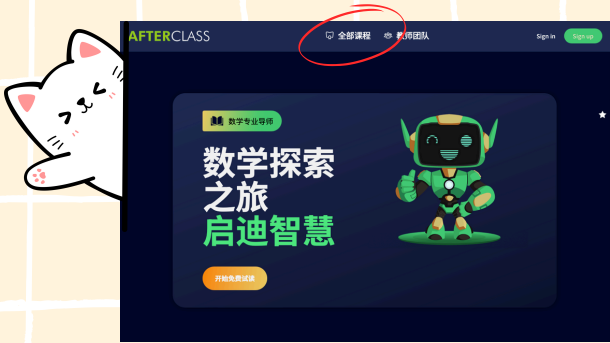
如何登入 Afterclass 网站开始学习



请登入到 MathTalk, Afterclass 网站

afterclass.my

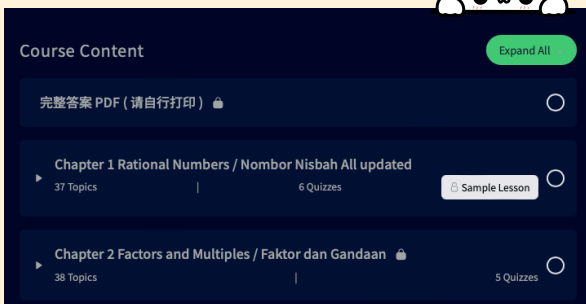
$$ax + by = c$$



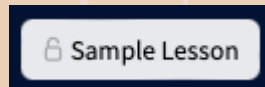
点击全部课程



选择您想学习的科目

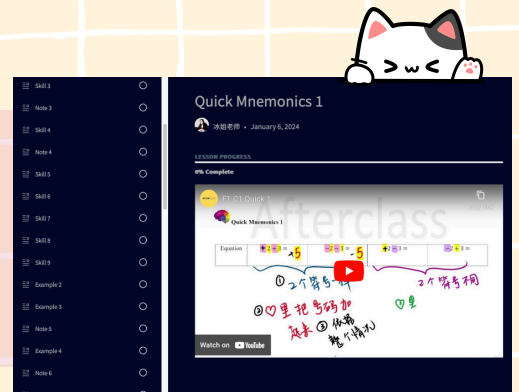


Scroll Down



至 Sample Lesson

选择您想观看的视频



为什么MathTalk课程更适合大家？



事半功倍

每个家长都知道，现在学生的活动特别多，回到家通常都十分疲倦，还需要上补习班的话，大家觉得孩子可以吸收多少呢？MathTalk 课程的优点在于孩子可以足够休息后，在精神最佳的状态依据自己的进度学习，效果肯定大大提升。

适合成绩不理想的同学

对于基础不好，还是学习能力比较慢，需要时间慢慢理解的同学，大家认为补习班的老师是否会为了一名学生而拖慢整个进度吗？前面单元没学到的课程又如何呢？MathTalk 的课程是一个题目一个视频，学生哪里不会，就学哪里，学到会为止。不用紧张，不用压力。



更适合成绩优越的同学

数学成绩比较优越的你，会比较希望在补习班中浪费时间听已经懂的题目，还是希望可以把握时间，尽量学习更多不同的题型，如果是后者，就只有MathTalk适合你。

10%的费用，10倍的效果

MathTalk 课程就等于和冰姐进行一对一的私人家教。课程不是平常上课补习班的录的视频，是冰姐特别一题一个讲解，完整却仔细的讲解每道题目和概念。但学费却只需不到补习费的十分之一。



每天进步1%

每天只需花几分钟的时间，学习数学课程。养成每天进步1%的好习惯，半年后你肯定被自己的改变吓一跳。


免费培训班

所有购买 MathTalk课程的同学都可免费获得全年不定期的现场直播培训班，或者以半价的优惠价出席特训班。同学可以和冰姐互动，同时冰姐也可以帮忙解决学生的问题。



单元 1 10 000 以内的整数



思维引导 1 单元概念 [请观看视频  并把重点记录下来]



MathTalk

392654338



笔记 1 [请观看视频  并把重点记录下来]

请念出以下数字。

1. 2003
2. 2030
3. 2031
4. 2300
5. 2301
6. 2311

MathTalk



给家长的话：即使有 2 个 0，只念一次。如果 0 位于数字之间，就必须念。如果 0 之后再没有其他非 0 的数字，此 0 就不需要再念。



练习 1 完成下图

	数字	文字
1	8001	
2	4020	
3	6900	
4	3505	
5		九千八百零三
6		一千九百九十九
7		七千一百七十七





练习 2 看图以数字写出数目。

①	②
③	④
⑤	⑥



概念技巧 1 图解方式认识加法 [请观看视频 并把重点记录下来]

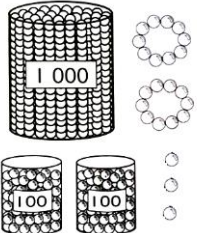
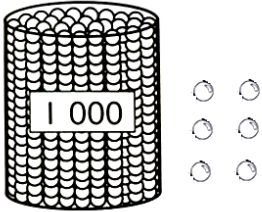
$$3577 + 1215$$

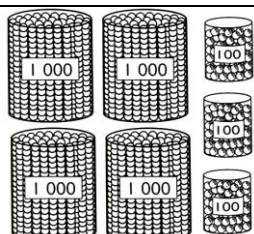

	加	





练习 3 看图以数字写出数目。

①	②	
		

		
	MathTalk	

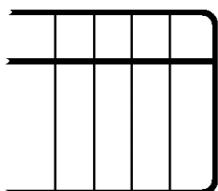


练习 4 速算练习

1. $1 + 6 + 9 + 4 =$
2. $1000 + 6000 + 9000 + 4000 =$
3. $2 + 8 + 3 + 7 =$
4. $2000 + 8000 + 3000 + 7000 =$
5. $5 + 2 + 8 + 5 =$
6. $5000 + 2000 + 8000 + 5000 =$



笔记 2 算盘 [请观看视频  并把重点记录下来]





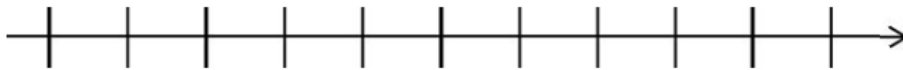
练习 5 看图以数字写出数目。

①	②
③	④



概念技巧 2 数目线 [请观看视频 并把重点记录下来] [此部分比较难，建议家长陪同学习]

MathTalk



练习 6 看图以数字写出数目

①	②
③	④





练习 7 在算盘上画珠子以显示数目。

①	②	③	④
8 113	9 040	5 783	6 008



概念技巧 3 数位、数值与数字 [请观看视频  并把重点记录下来]

3685



练习 8 写出以下数目中画线数字的数位和数值。

	①	②	③	④	⑤
数目	6 4 <u>8</u> 6	<u>6</u> 0 0 3	4 5 7 <u>9</u>	6 <u>0</u> 3 8	2 0 <u>2</u> 0
数位					
数值					



练习 9 完成以下的分析式。

1. 4 536 =
2. 1 708 =
3. 5 639 =
4. 5 161 =
5. 6 871 =




练习 10 写出“6”在各数中的数位和数值。

	①	②	③	④	⑤
数目	5600	6981	2536	1625	3006
数位					
数值					










笔记 3 比较数目 [请观看视频  并把重点记录下来]

5096 6375



练习 11 把比较大的数目涂上颜色。

1	
2	
3	
4	 MathTalk
5	



练习 12 比较数目，在  里填入“大”或“小”。

1. 5786 比 5686



2. 3514 比 3504




3. 4053 比 4035



4. 9563 比 9636





笔记 4 近似值 [请观看视频  并把重点记录下来] [ 此部分比较难，建议家长陪同学习]

1. 千位里的十位近似值

- a. 5682
- b. 3375
- c. 4221

2. 千位里的百位近似值

- a. 5682
- b. 3375
- c. 4221

3. 千位里的千位近似值

- a.5682
- b.3375
- c.4221



MathTalk



练习 13 写出以下数目的近似值。

	数目	十位近似值	百位近似值	千位近似值
①	6 258			
②	4 406			
③	2 039			
④	6 540			
⑤	7 998			




概念技巧 4 十位近似值 [请观看视频  并把重点记录下来] [ 此部分比较难，建议家长陪同学习]

- 1. 哪些数目的十位近似值是 10。
- 2. 哪些数目的十位近似值是 20。
- 3. 哪些数目的十位近似值是 60。






概念技巧 5 百位近似值 [请观看视频  并把重点记录下来]

1. 哪些数目的百位近似值是 200。
2. 哪些数目的百位近似值是 500。
3. 哪些数目的百位近似值是 800。



概念技巧 6 千位近似值 [请观看视频  并把重点记录下来]

1. 哪些数目的千位近似值是 1000。
2. 哪些数目的千位近似值是 4000。
3. 哪些数目的千位近似值是 9000。



练习 14 根据指示写一写。

7 548
 6 250
 2 630
 3 400
 2 587

7 556
 2 550
 2 535
 7 552
 7 548

①
十位近似值是 7 550 的数目

②
百位近似值是 2 600 的数目



练习 15 画线配一配数列与模式。

①	5 700 , 5 600 , 5 500 , 5 400 , 5 300
②	2 020 , 3 030 , 2 020 , 3 030 , 2 020
③	6 525 , 6 550 , 6 575 , 6 600 , 6 625
④	8 , 16 , 32 , 64 , 128 , 256 , 512
⑤	9 800 , 9 750 , 9 700 , 9 650 , 9 600

重复地加 25
交替使用数目
重复地减 100
重复地减 50
重复地乘 2





附录 1: [无提供讲解视频]

	十位	百位	千位
6440			
6441			
6442			
6443			
6444			
6445			
6446			
6447			
6448			
6449			
6450			
6451			
6452			
6453			
6454			
6455			
6456			
6457			
6458			
6459			
6460			
6461			
6462			
6463			
6464			
6465			
6466			
6467			
6468			
6469			
6470			
6471			

	十位	百位	千位
6472			
6473			
6474			
6475			
6476			
6477			
6478			
6479			
6480			
6481			
6482			
6483			
6484			
6485			
6486			
6487			
6488			
6489			
6490			
6491			
6492			
6493			
6494			
6495			
6496			
6497			
6498			
6499			
6500			
6501			
6502			
6503			





练习 16 完成下列数列 [答案：请观看视频]

①	
②	
③	
④	
⑤	



练习 17 估一估 在合理的答案旁打√

1	<p>1200 颗</p>		大约 800 颗
			大约 400 颗
2	<p>5000 颗</p>		多于 3000 颗
			少于 3000 颗





总复习 1

1. 把 4650 写成文字。

- A 四百六十五
- C 四千六百五零

- B 四千六百零五
- D 四千六百五十

2. 下列哪个数目中，4 的数位是百位？

- A 2 648
- B 3 471

- C 4 583
- D 3 374

3. 8 133 中，8 的数值是什么？

- A 8
- B 80

- C 800
- D 8000

4. 以下哪项是 4294 之前的数目？

- A 4492
- B 4924

- C 4942
- D 4249

5. 下图显示四张数目卡。

MathTalk

2 359	2 210	2 259	2 158
-------	-------	-------	-------

顺序排列以上的数目。

- A 2359、2210、2259、2158
- C 2210、2259、2359、2158

- B 2359、2259、2210、2158
- D 2158、2210、2259、2359



总复习 2

1. a.将以下的数目与正确的读法连起来。九百零七

907

九百七十

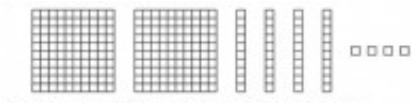
九百七

九百零七

b.把九百七十八写成数字。 _____



2. 下图显示一些大小相同的正方形。



莉莎说图中一共有有 244 个大小相同的正方形。 正确

a. 她的说法正确吗？画“√”。

正确 不正确

b. 以文字写出图中正方形的数量。 _____

3. 下列显示四张数目卡。



a. 用上图 的数字卡组成一个最大的四位数及一个最小的四位数。

b. 以文字写出的答案。

MathTalk

4. 下图显示四个数目。

8752 8527 8725 8572
逆序排列图中的数目。

5. 下图显示两个数目。

8250 8950

从较小的数字开始， 一百一百顺序地数， 直到数到较大的数字。



学校课本练习 1

1. 完成表格。

	a			
	8	3	8	7
数位				
数值				

	b			
	6	0	5	0
数位				
数值				



2. 说出 2000 里 2 的数位。

3. 2867

根据数位分析：

根据数值分析：

4. 6254

根据数位分析：

根据数值分析：

5. 9 个千、6 个百、0 个十和 8 个一。

6. $4000 + 60 =$

MathTalk



学校课本练习 2 比较数目

1. 黄色的珠子有 894 颗，红色的珠子有 1040 颗。哪种的珠子比较少？



2. 谁走比较多步？



3. 哪个数目比较小？



4. 哪个数目比较大?



5. 哪个数目比较大?



6. 哪个数目比较小?



学校课本练习 3

MathTalk

1. 从小到大排列以下数目。

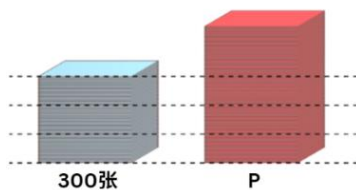


2. 从大到小排列以下数目。

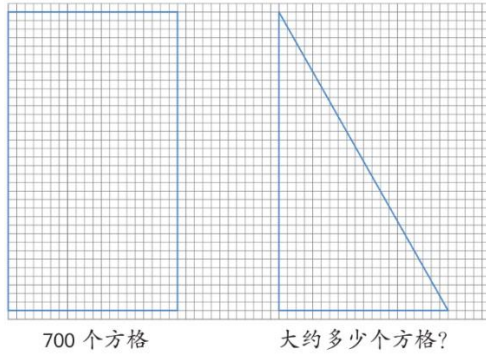


学校课本练习 4 估算

1.



2. 右图大约有多少个方格?



学校课本练习 5

- 4392 的千位近似值是_____。
- 4392 的百位近似值是_____。

把以下数目写成千位近似值和百位近似值。

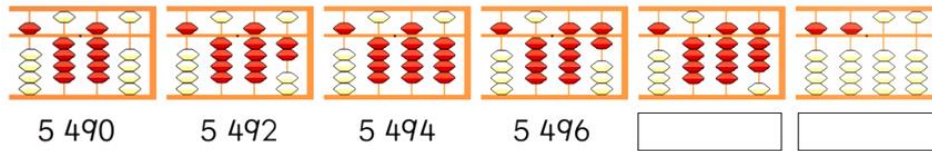
- 3465
- 6928
- 6968

MathTalk

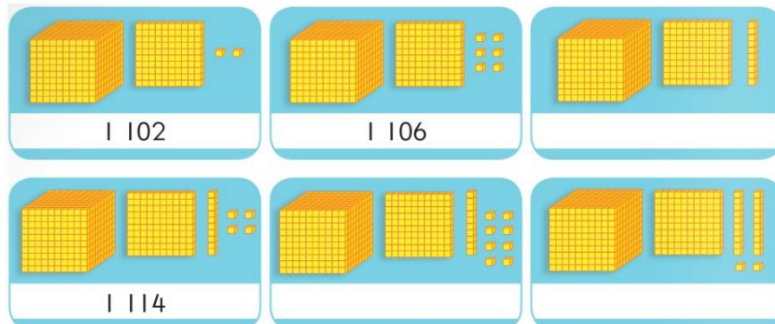


学校课本练习 6 [请观看 Q5, Q6 以获得更深层的讲解]

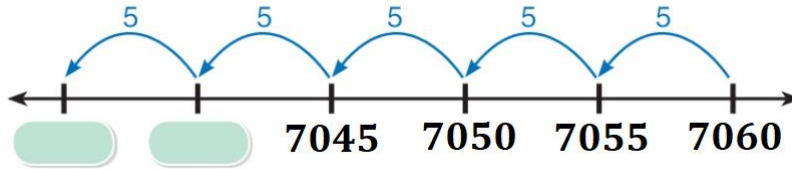
1. 两个两个地数。



2. 四个四个地数。



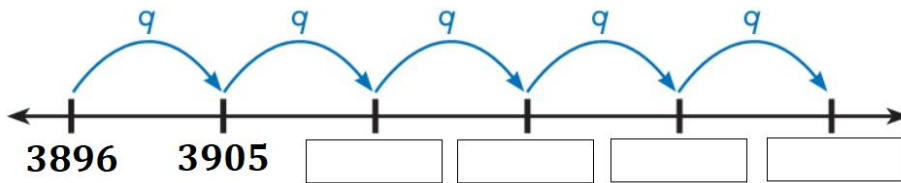
3. 五个五个地数。



4. 十个十个地数。

4516, 4526, 4536, _____, _____。

5. 九个九个地数。



6. 从 2642 数到 2660。

a. 三个三个地数。

b. 六个六个地数。

c. 九个九个地数。

MathTalk



学校课本练习 7 [建议观看 Q1, Q3b 以获得更深入的讲解]

1. 从 2625 数到 3325, 一百一百地数。

2. 从 8063 数到 2063, 一千一千地数。

3. 从 4190 数到 4150。

a. 四个四个地数。

b. 八个八个地数。

c. 五个五个地数。[请先观看 Q3d 的讲解视频, 再观看 Q3c 的讲解]

d. 十个十个地数。





学校课本练习 8 说出以下数列的规律,

1. 3608、4608、()、()、7608、()
2. 5410、()、5610、()、5810、()
3. 4989、()、4983、()、()、4974
4. 8352、8344、()、()、()、8312



学校课本练习 9

1. 伟菘拼好 1050 块拼图后, 接下来他将会每天拼 100 块。计算他在第五天共拼好的拼图数量。



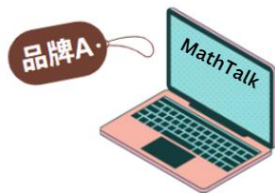
MathTalk

2. 估一估两个新村共有大约多少个居民。

新村	居民人数
永顺新村	3501
万福新村	1464



3. 下图显示某商店卖出的笔记本电脑。



卖了 2847 台



卖了 3009 台

- a. 哪个牌子的笔记本电脑的销量比较好?
- b. 商店今年的目标是卖出 2890 台 A 牌子笔记本电脑。 目标已经达到了吗?



4. 根据下表， 哪一天借阅的书籍数量最多？ 哪一天最少？

天	借阅的书籍数量
星期一	1898
星期二	2506
星期三	1975
星期四	2679
星期五	1465



5. 老师：“每个人有 1 套 0 到 9 的数字卡。每次抽出一张卡，贴在数位表上。谁组成的四位数比较大谁就胜出。”

伟强

千位	百位	十位	个位
		0	1

艾莉

千位	百位	十位	个位
6	8		0

- 伟强应该把卡放在哪个数位上，才有可能胜出？ 解释你的答案。
- 伟强抽到的最后一张卡是 6。他是赢还是输了？ 解释你的答案。



时刻怀有感恩的❤️



家长手册：单元 1 10000 以内的整数

思维引导: 请观看视频, 并把重点记录下来

笔记: 请观看视频, 并把重点记录下来

概念技巧: 请观看视频, 并把重点记录下来

延伸知识: 请观看视频, 并把重点记录下来

练习 1

数字 文字

1. 8 001 八千零一
2. 4 020 四千零二十
3. 6 900 六千九百
4. 3 505 三千五百零五
5. 9 803 九千八百零三
6. 1 999 一千九百九十九
7. 7 177 七千一百七十七

练习 2

1. 2 132
2. 4 000
3. 2 006
4. 2 230
5. 1 050
6. 1 036

MathTalk

练习 3

1. 1 223
2. 1 006
3. 2 060
4. 2 171
5. 4 300
6. 3 320

练习 4

1. 20
2. 20 000
3. 20
4. 20 000
5. 20
6. 20 000



练习 5

1. 7 568
2. 5 431
3. 7 658
4. 3 154

练习 6

1. 8 041
2. 2 070
3. 5 120
4. 8 235

练习 7 答案请观看视频

练习 8

	①	②	③	④	⑤
数目	6 4 <u>8</u> 6	<u>6</u> 0 0 3	4 5 7 <u>9</u>	6 <u>0</u> 3 8	2 0 <u>2</u> 0
数位	十位	千位	个位	百位	十位
数值	80	6000	9	0	20

练习 9

1. $4000 + 500 + 30 + 6$
2. $1000 + 700 + 8$
3. $5000 + 600 + 30 + 9$
4. $5000 + 100 + 60 + 1$
5. $6000 + 800 + 70 + 1$

练习 10

	①	②	③	④	⑤
数目	5600	6981	2536	1625	3006
数位	百位	千位	个位	百位	个位
数值	600	6000	6	600	6

练习 11

1. 8 990
2. 8 200
3. 5 641
4. 5 350
5. 6 300



练习 12

1. 大
2. 大
3. 大
4. 小

练习 13

	数目	十位近似值	百位近似值	千位近似值
①	6 258	6260	6300	6000
②	4 406	4410	4400	4000
③	2 039	2040	2000	2000
④	6 540	6540	6500	7000
⑤	7 998	8000	8000	8000

练习 14

1. 7548 , 7552
2. 2630 , 2550

练习 15

①	5 700 , 5 600 , 5 500 , 5 400 , 5 300	重复地加 25
②	2 020 , 3 030 , 2 020 , 3 030 , 2 020	交替使用数目
③	6 525 , 6 550 , 6 575 , 6 600 , 6 625	重复地减 100
④	8 , 16 , 32 , 64 , 128 , 256 , 512	重复地减 50
⑤	9 800 , 9 750 , 9 700 , 9 650 , 9 600	重复地乘 2

练习 16 请观看视频

练习 17

1. 大约 400 颗
2. 少于 3000 颗

总复习 1

1.D 2.B 3.D 4.D 5.D

总复习 2

1. a)九百零七 b) 978
2. a) 正确 b)二百四十四
3. a) 最大： 6420 ， 最小： 2046 ， b) 六千四百二十 ， 二千零四十六
4. 8752 , 8725 , 8572 , 8527
5. 8250 , 8350 , 8450 , 8550 , 8650 , 8750 , 8850 , 8950



学校课本练习 1

1.

a				
	8	3	8	7
数位	千位	百位	十位	个位
数值	8000	300	80	7

b				
	6	0	5	0
数位	千位	百位	十位	个位
数值	6000	0	50	0

2. 千位

3. a. 2 个千 + 8 个百 + 6 个十 + 7 个一 b. $2000 + 800 + 600 + 7$ 4. a. 6 个千 + 2 个百 + 5 个十 + 4 个一 b. $6000 + 200 + 50 + 4$

5. 9608

6. 4060

学校课本练习 2

1. 黄色珠子

2. 约翰

3. 4964 比较小

4. 7000

5. 3649

6. 3050

学校课本练习 3

1. 2596, 2698, 5352, 5388, 8789

2. 8867, 8856, 8498, 8469, 8396

学校课本练习 4

1. P 500 张

2. 350 个方格

学校课本练习 5

1. 4000

2. 4400

3. 百位近似值 3500, 千位近似值 3000

4. 百位近似值 6900, 千位近似值 7000

5. 百位近似值 7000, 千位近似值 7000



学校课本练习 6

1. 5498, 5500
2. 1110, 1114, 1118, 1122
3. 7035, 7040
4. 4546, 4556
5. 3914, 3923, 3932, 3941
6. a.2642, 2645, 2648, 2651, 2654, 2657, 2660
b.2642, 2648, 2654, 2660
c.2642, 2651, 2660

学校课本练习 7

1. 2625, 2725, 2825, 2925, 3025, 3125, 3125, 3225, 3325
2. 8063, 7063, 6063, 5063, 4063, 3063, 2063
3. a.4190, 4186, 4182, 4178, 4174, 4170, 4166, 4162, 4158, 4154, 4150
b.4190, 4182, 4174, 4166, 4158, 4150
c.4190, 4185, 4180, 4175, 4170, 4165, 4160, 4155, 4150
d.4190, 4180, 4170,4160, 4150

学校课本练习 8

1. 5608、6608、8608
2. 5510、5710、5910
3. 4986、4980、4977
4. 8336、8328、8320

学校课本练习 9

1. 1550 块
2. 4965 人
3. a.品牌 B b.目标没达到
4. 最多：星期四 最少：星期五
5. a.百位，千位可能可以抽出 7、8 或 9 b.伟强输了，因为百位数的 5 少于 8





附录 1:

		十位	百位	千位
	6440	6440	6400	6000
	6441	6440	6400	6000
	6442	6440	6400	6000
	6443	6440	6400	6000
	6444	6440	6400	6000
	6445	6450	6400	6000
	6446	6450	6400	6000
	6447	6450	6400	6000
	6448	6450	6400	6000
	6449	6450	6400	6000
	6450	6450	6500	6000
	6451	6450	6500	6000
	6452	6450	6500	6000
	6453	6450	6500	6000
	6454	6450	6500	6000
	6455	6460	6500	6000
	6456	6460	6500	6000
	6457	6460	6500	6000
	6458	6460	6500	6000
	6459	6460	6500	6000
	6460	6460	6500	6000
	6461	6460	6500	6000
	6462	6460	6500	6000
	6463	6460	6500	6000
	6464	6460	6500	6000
	6465	6470	6500	6000
	6466	6470	6500	6000
	6467	6470	6500	6000
	6468	6470	6500	6000
	6469	6470	6500	6000
	6470	6470	6500	6000
	6471	6470	6500	6000

		十位	百位	千位
	6472	6470	6500	6000
	6473	6470	6500	6000
	6474	6470	6500	6000
	6475	6480	6500	6000
	6476	6480	6500	6000
	6477	6480	6500	6000
	6478	6480	6500	6000
	6479	6480	6500	6000
	6480	6480	6500	6000
	6481	6480	6500	6000
	6482	6480	6500	6000
	6483	6480	6500	6000
	6484	6480	6500	6000
	6485	6490	6500	6000
	6486	6490	6500	6000
	6487	6490	6500	6000
	6488	6490	6500	6000
	6489	6490	6500	6000
	6490	6490	6500	6000
	6491	6490	6500	6000
	6492	6490	6500	6000
	6493	6490	6500	6000
	6494	6490	6500	6000
	6495	6500	6500	6000
	6496	6500	6500	6000
	6497	6500	6500	6000
	6498	6500	6500	6000
	6499	6500	6500	6000
	6500	6500	6500	7000
	6501	6500	6500	7000
	6502	6500	6500	7000
	6503	6500	6500	7000



热卖中

by 冰姐讲数 MathTalk, Afterclass



一年级数学



二年级数学



四年级数学



五年级数学



六年级数学



独中初一数学



独中初二数学



独中初三数学



国中F1 Math



国中F2 Math



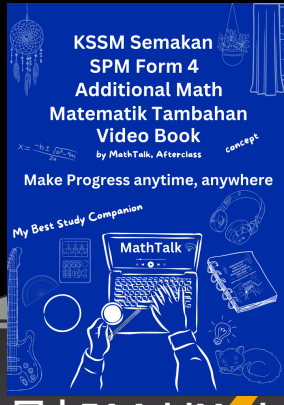
国中F3 Math



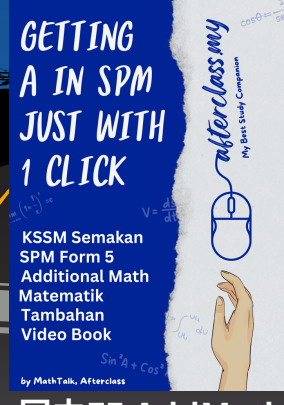
国中F4 Math



国中F5 Math



国中F4 AddMath



国中F5 AddMath



独中初一地理

整理中

独中高一数学 (文商)

独中高二数学 (文商)

独中高三数学 (文商)

独中高一高数 (理科)